



Ce document a été mis en ligne par l'organisme [FormaV®](#)

Toute reproduction, représentation ou diffusion, même partielle, sans autorisation préalable, est strictement interdite.

Pour en savoir plus sur nos formations disponibles, veuillez visiter :

www.formav.co/explorer

BTS MÉTIERS DE L'EAU

ÉTUDE DE CAS – U. 61

SESSION 2014

Durée : 4 heures
Coefficient : 4

Matériel autorisé :

- Toutes les calculatrices de poche y compris les calculatrices programmables, alphanumériques ou à écran graphique à condition que leur fonctionnement soit autonome et qu'il ne soit pas fait usage d'imprimante (Cirulaire n°99-186, 16/11/1999).

- Ciseaux, colle et règle.

Tout autre matériel est interdit.

Documents à découper et coller sur la copie :

- document-réponse hydraulique n°1page 19/20
- document-réponse hydraulique n°2page 20/20

Dès que le sujet vous est remis, assurez-vous qu'il est complet.
Le sujet comporte 20 pages, numérotées de 1/20 à 20/20.

BTS MÉTIERS DE L'EAU		Session 2014
Étude de cas – U. 61	Code : MTE6EDC	Page : 1/20

1^{ère} PARTIE : ÉTUDE DU PROCÉDÉ DE TRAITEMENT

(40 points)

Durée indicative : 2 h

ÉTUDE DU DYSFONCTIONNEMENT DE LA FILIÈRE EAU ET ÉTUDE DE LA FILIÈRE BOUE D'UNE STATION D'ÉPURATION.

P1. Étude du dysfonctionnement de l'épuration biologique (12 points)

La station d'épuration étudiée (**annexes 1 et 2, pages 9 et 10/20**) est sujette depuis quelques mois à un phénomène de foisonnement.

P1.1. Proposer deux tests ou analyses confirmant la mise en évidence du phénomène de foisonnement dans une station de traitement des eaux résiduaires urbaines par boues activées.

P1.2. Calculer la charge massique de la station, en situation normale de fonctionnement (**annexes 3 et 4, page 11/20**). **Conclure**.

P1.3. Calculer la valeur de l'indice de boue (IB) du bassin d'aération de cette station :

- en situation normale de fonctionnement (**annexe 4**);
- en situation de dysfonctionnement (**annexe 5, page 11/20**).

Conclure.

P1.4. À partir des annexes 6, 7 et 8 (pages 12 et 13/20), identifier la bactérie incriminée. **Préciser** la cause probable du phénomène de foisonnement observé.

P2. Étude de deux solutions de lutte contre le phénomène de foisonnement (18,5 points)

Une première solution de lutte par chloration est mise en place en octobre 2007.

P2.1. Indiquer si ce traitement est curatif ou préventif. **Justifier** la réponse.

P2.2. Calculer le flux journalier de dichlore injecté ($\text{kg Cl}_2 \cdot \text{j}^{-1}$) (**annexe 9, page 13/20**).

En considérant un flux de dichlore injecté de $200 \text{ kg Cl}_2 \cdot \text{j}^{-1}$.

P2.3. Calculer la concentration en dichlore au point d'injection ($\text{g Cl}_2 \cdot \text{m}^{-3}$).

Conclure à l'aide de l'**annexe 9**.

P2.4. Calculer le taux de traitement global en dichlore ($\text{g Cl}_2 \cdot \text{kg MS}^{-1} \cdot \text{j}^{-1}$) au point d'injection.

Conclure à l'aide de l'**annexe 9**.

P2.5. Calculer la masse de MS recirculées en kg pour une période de 24 heures.

P2.6. En déduire le nombre de passage par jour de la boue au point d'injection.
Conclure à l'aide de l'**annexe 9**.

P2.7. Citer le paramètre d'exploitation suivi tout au long de la chloration pour déterminer le temps nécessaire à ce traitement.

Décrire l'évolution attendue de ce paramètre au cours d'un traitement d'une dizaine de jours de chloration.

Suite au traitement de chloration, qui a donné satisfaction mais qui représente un coup d'exploitation important (consommation en réactif), il a été décidé de construire en avril 2012 une zone de contact en amont du bassin d'aération.

P2.8. En se référant au graphique de l'**annexe 10 (page 14/20)**, **justifier** la construction de cet ouvrage et **expliquer** en détail quel phénomène biologique on veut favoriser dans la zone de contact.

Le temps de contact « effluent / boues », dans la zone de contact, doit être d'environ de 10 minutes (dimensionné sur le débit de pointe + le débit de recirculation).

P2.9. À partir des **annexes 3 et 9**, **calculer** le volume de la zone de contact (m³).

P2.10. À partir du graphique fourni en **annexe 11 (page 14/20)**, représentant l'évolution de l'IB en fonction du temps, **déterminer** le temps nécessaire à l'exploitant pour faire disparaître le phénomène de foisonnement de sa station.

P3. Étude de la filière boues (9,5 points)

P3.1. À partir des informations fournies en **annexe 2**, **expliquer** le rôle du chaulage des boues, dans l'épaississeur et avant stockage des boues déshydratées.

P3.2. À partir des informations fournies en **annexe 2**, **expliquer** le rôle de l'ajout de polymères avant déshydratation par centrifugation.

Les retours en tête correspondent à l'eau récupérée suite à l'épaississement des boues et au traitement de déshydratation par centrifugation. Cette eau retourne en tête de station et rejoint l'eau brute.

P3.3. Calculer le volume journalier des retours en tête sur cette station (m³.j⁻¹) à l'aide de l'**annexe 12 (page 14/20)**.

Le taux de capture (TC) est un paramètre souvent calculé sur un appareil de déshydratation (ici la centrifugeuse) pour évaluer le rendement d'extraction des MS.

Il se calcule à l'aide de la formule suivante :

$$TC (\%) = \left(\frac{[MS]_{\text{Gateau}} \times ([MS]_{\text{Boue d'alim.}} - [MS]_{\text{Centrat}})}{[MS]_{\text{Boue d'alim.}} \times ([MS]_{\text{Gateau}} - [MS]_{\text{Centrat}})} \right) \times 100$$

Pour que l'étape de centrifugation soit considérée comme efficace, le taux de capture doit être supérieur à 95 %.

P3.4. Sachant que la concentration en MS dans le centrat est de 0,8 g.L⁻¹, **calculer** le taux de capture de la centrifugeuse. **Conclure**.

2^{ème} PARTIE : ÉLECTROTECHNIQUE – RÉGULATION – AUTOMATISME

(25 points)

Durée indicative : 1 h 15

PARTIE ÉLECTROTECHNIQUE (9 points)

La station est alimentée par un réseau triphasé $3 \times 400 \text{ V}$. La centrifugeuse, dont le fonctionnement est décrit en **annexe 2**, possède un moteur permettant l'entraînement du bol et un autre l'entraînement de la vis. Ces deux moteurs sont reliés à des variateurs de vitesse qui communiquent avec un automate industriel.

Ces éléments possèdent une inertie importante qui induit une durée de démarrage importante.

ÉTUDE DE LA COMMANDE DU MOTEUR DU BOL DE LA CENTRIFUGEUSE.

Le réseau possède les caractéristiques suivantes :

- tension nominale entre phases : 400 V ;
- fréquence : 50 Hz ;

Le moteur du bol possède les caractéristiques suivantes :

- moteur classe IE2 ;
- tensions : $230 \text{ V } \Delta / 400 \text{ V } Y$;
- $P_n = 22 \text{ kW}$;
- vitesse nominale $= 1470 \text{ tr.min}^{-1}$; $I_n = 40,2 \text{ A}$; $\cos \varphi = 0,85$; $\eta = 0,92$.

E.1. Expliquer l'intérêt d'utiliser un variateur de vitesse dans le cas de la centrifugeuse.

E.2. Calculer la puissance absorbée par le moteur du bol au fonctionnement nominal.
Calculer son moment de couple nominal.

E.3. Choisir et justifier le variateur adapté au moteur du bol (**annexe 13, page 15/20**).

E.4. Choisir et justifier le couplage du moteur.

E.5. La protection thermique est assurée par le variateur de vitesse.
Donner sa valeur de réglage I_{th} .

E.6. Nommer et expliquer le rôle des appareils Q1 et KM1 du schéma (**annexe 15, page 17/20**).

E.7. En fonctionnement nominal, déterminer la vitesse du moteur pour un réglage de la fréquence du variateur de 50 Hz puis de $16,66 \text{ Hz}$.

E.8. Choisir l'appareil KM1 parmi ceux proposés en **annexe 14 (page 16/20)**.

PARTIE RÉGULATION (10 points)

On doit contrôler le débit Q_2 de polymère liquide, de manière à influencer sur la siccité des boues. Pour ce faire, on asservit le débit Q_2 de polymère liquide au débit Q_1 de boue provenant de l'épaississeur, de telle sorte que : $Q_2 = K \times Q_1$.

Le schéma TI de cette régulation est fournie dans l'annexe 16 (page 18/20).

R.1. Parmi les cinq types proposés ci-dessous, **indiquer** les deux seuls débitmètres capables de mesurer un débit de boue et utilisables à cet endroit de la station :

- débitmètre Vortex ;
- débitmètre à palettes ;
- débitmètre massique Coriolis ;
- débitmètre à ultrasons ;
- débitmètre électromagnétique.

R.2. Le capteur de débit de polymère mesure un débit allant de 0 à $1,5 \text{ m}^3 \cdot \text{h}^{-1}$.


Cette mesure est ensuite codée en tension de $-10 / +10$ volts.

Indiquer la valeur, en $\text{L} \cdot \text{h}^{-1}$, pour une tension de $-7,5$ volts.


Indiquer la valeur, en volts, pour un débit de $0,810 \text{ m}^3 \cdot \text{h}^{-1}$.

R.3. **Indiquer** les grandeurs caractéristiques de cette régulation : grandeur réglée et réglante.

Grandeur réglante : ?



RÉGULATION
DE RAPPORT



Grandeur réglée : ?

R.4. Réaliser, sous forme d'un tableau comme proposé ci-dessous, la désignation de tous les éléments du schéma TI proposé en annexe 16.

Repère	Désignation
FE1/FE2	
FT1/FT2	
FY1	
K	
FIC	

R.5. Lors de la phase de réglage de la régulation, le débit Q_1 mesuré est de $12,5 \text{ m}^3 \cdot \text{h}^{-1}$, le coefficient K est réglé à 4%.

Calculer le débit Q_2 en $\text{L} \cdot \text{h}^{-1}$ de polymère pour ce cas de figure.

PARTIE AUTOMATISME (6 points)

Le support d'étude est le dégrilleur automatique à déversement amont.

Son fonctionnement est présenté en annexe 17 (page 18/20).

① - ARRET-REPOS (ou fin de cycle) – Le râteau reste en attente, capteur $Crp = 1$ pendant le temps programmé (5 minutes).

② - DESCENTE – À la fin de la temporisation de 5 minutes ou si le signal de perte de charge (Pc) passe à 1, on donne l'ordre de démarrage au moteur qui tourne alors dans le sens indiqué (KM1). Le râteau descend ouvert.

③ - ARRET BAS – Le râteau vient se poser au fond. Par gravité, le mobile change de position. Le câble se détend, libérant le palpeur qui sollicite le capteur fin de course bas (Cfcb). Celui-ci commande l'arrêt du moteur et l'activation d'une temporisation de 15 s.

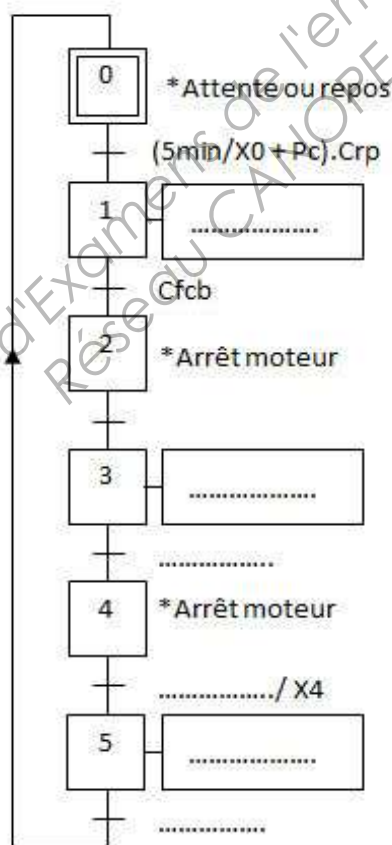
④ - NETTOYAGE DE LA GRILLE – Après une temporisation (15 secondes), le moteur repart en sens inverse (KM2). Le câble se tend, le râteau se ferme, engageant ses dents entre les barreaux de manière mécanique et puis remonte.

⑤ - MONTÉE – Les déchets prélevés sont emprisonnés dans le râteau fermé.

⑥ - DÉVERSEMENT – Sur le schéma en **annexe 17**, le râteau pivote et se déporte au-dessus du réceptacle à déchets, pour vider son contenu. Dans notre cas, le râteau, en fin de course, rencontre un éjecteur mécanique qui va, vider les refus de grille vers un compacteur, le stopper et activer un contact fin de course haut (Cfch). Après 20 secondes, le râteau repart en position repos (Crp), dans l'attente d'un nouveau cycle.

Pendant tous les déplacements, un voyant de sécurité clignote à une fréquence de 2 Hz.

A.1. À l'aide de la description **ci-dessus** et de l'**annexe 17**, recopier et compléter le grafcet d'un point de vue partie commande (utiliser les noms des entrées et sorties proposées dans l'**annexe 17**).



A.2. Proposer un grafcet qui permet de faire clignoter le voyant de sécurité, à une fréquence de 2 hertz, lors du déplacement du râteau.

Utiliser le numéro 10 pour l'étape initiale.

3^{ème} PARTIE : HYDRAULIQUE

(15 points)

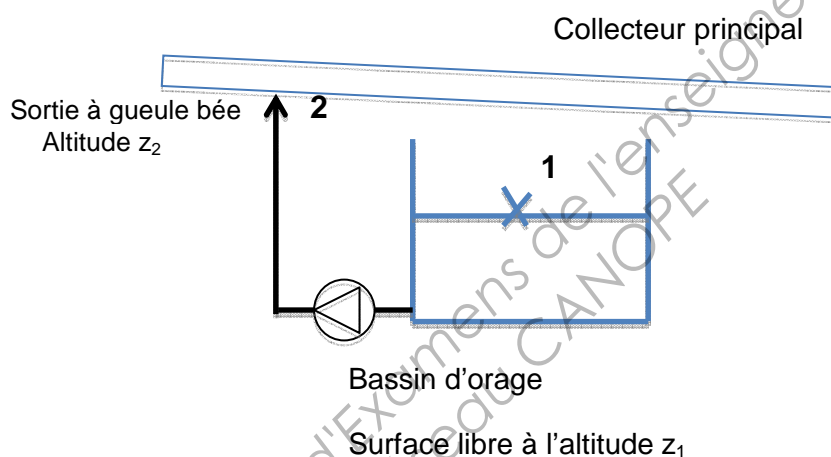
Durée indicative : 45 minutes

ÉTUDES HYDRAULIQUES D'AVANT-PROJET DU BASSIN D'ORAGE EN AMONT DE LA STEP.

Le but d'un bassin d'orage est de réguler le flux transitant dans le réseau d'assainissement et arrivant à la STEP, par détournement automatique mais provisoire, par un déversoir, des flux intempestifs dus à des phénomènes pluvieux.

Le contenu du bassin d'orage est pompé et refoulé dans le collecteur principal lorsque l'orage a cessé.

Vue schématique de l'installation :



Formulaire partiel :

Formule de DARCY	$\Delta H = R \times Q^2 = \frac{8\lambda L}{g\pi^2 D^5} \times Q^2 \quad \text{ou} \quad \Delta H = \frac{\lambda L}{2gD} \times V^2$ <p>ΔH : perte de charge régulière en m_{CE} ; D, L, Q où V est en unité S.I.</p>
Nombre de Reynolds	$Re = \frac{V \cdot D}{\nu} = \frac{4 \cdot Q}{(\pi \cdot D \cdot \nu)}$

Étude et choix de la pompe de refoulement. Pompage de 1 à 2.

Données :

- le débit désiré est $Q = 400 \text{ m}^3 \cdot \text{h}^{-1}$ (pour $N_{\text{pompe}} = 1450 \text{ tr} \cdot \text{min}^{-1}$) ;
- conduite de refoulement : $D = 200 \text{ mm}$;
- masse volumique de l'effluent : $\rho = 1020 \text{ kg} \cdot \text{m}^{-3}$;
- accélération de la pesanteur : $g = 9,81 \text{ m} \cdot \text{s}^{-2}$;
- la viscosité cinématique de l'eau est $\nu = 10^{-6} \text{ m}^2 \cdot \text{s}^{-1}$;
- la conduite de refoulement est en fonte de rugosité absolue $k = 1 \text{ mm}$;
- la longueur droite de conduite est $L = 30 \text{ m}$;
- l'ensemble des singularités (crépine, vanne, coudes) équivaut à une longueur droite de conduite $L_{\text{eSing}} = 6 \text{ m}$;
- altitude de la surface libre du bassin $z_1 = 84 \text{ m}$;
- altitude de la sortie à gueule bée de la conduite de refoulement $z_2 = 89 \text{ m}$.

H.1. Déterminer l'expression littérale de la Hmt (m_{CE}) que doit fournir la pompe.

On négligera le terme dû à l'énergie cinétique de l'eau en 1 et 2 dans l'application du théorème de Bernoulli.

H.2. Déterminer le coefficient de pertes de charge linéaire λ de la conduite de refoulement de 1 à 2.

On utilisera l'abaque de Moody-Colebrook fourni.

(Découper et coller sur la copie le document-réponse hydraulique n°1 (page 19/20)).

On prendra $\lambda = 0,03$ pour les questions suivantes.

H.3. Calculer en utilisant la formule de Darcy la perte de charge totale $\Delta H_{1 \rightarrow 2}$.

En **déduire** que la Hmt est de $8,4 m_{\text{CE}}$.

H.4. Placer le point de fonctionnement calculé sur le **document constructeur (page 20/20)** et **choisir** le diamètre de roue qui convient. **Justifier** la réponse.

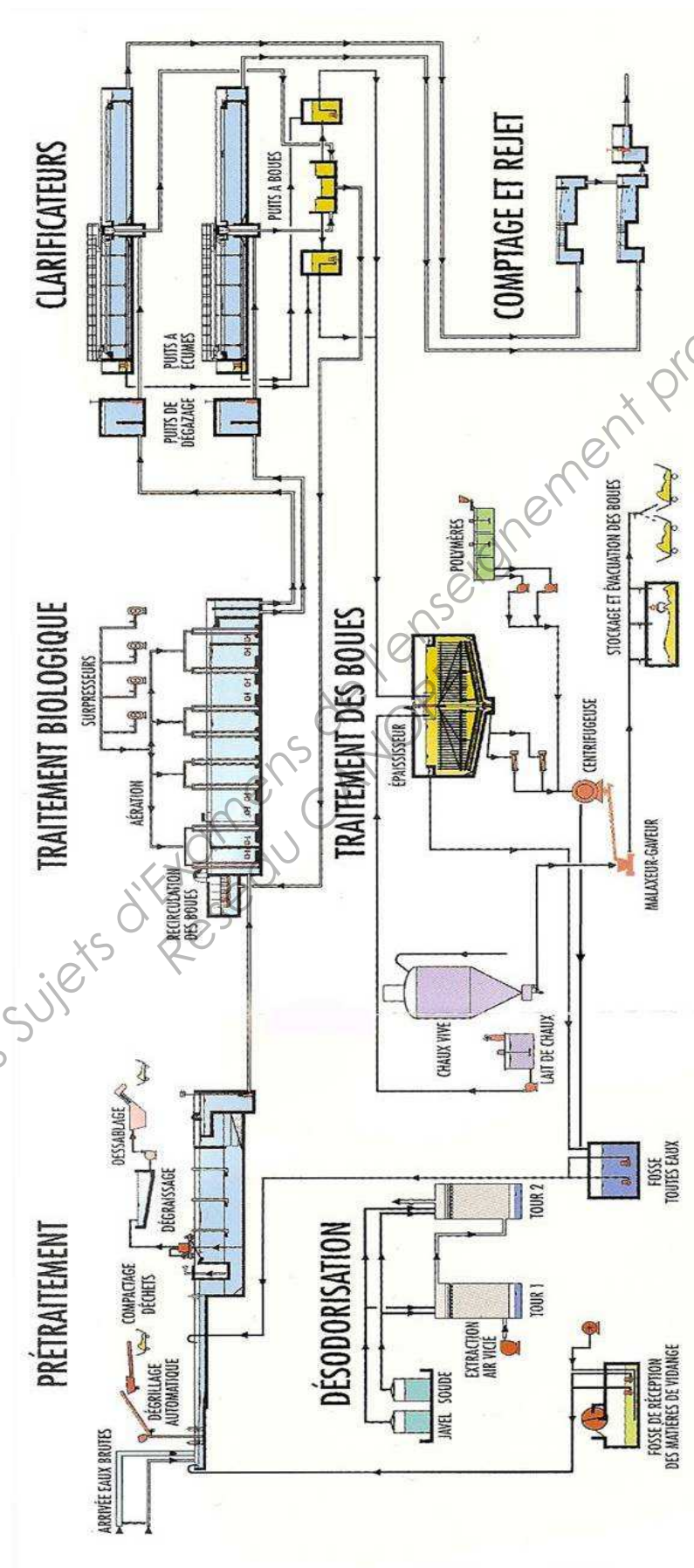
(Découper et coller sur la copie le document-réponse hydraulique n°2 (page 20/20)).

H.5. Tracer, sur le même document, l'allure de la courbe de réseau de l'installation et **indiquer** alors les caractéristiques (Q_f , $H_{\text{mt}f}$) du point de fonctionnement réel à $1450 \text{ tr} \cdot \text{min}^{-1}$.

H.6. Calculer la puissance hydraulique Ph de la pompe si le point de fonctionnement réel de l'installation donne $Q_r = 425 \text{ m}^3 \cdot \text{h}^{-1}$ et $H_{\text{mtr}} = 8,8 m_{\text{CE}}$.

H.7. Évaluer, par une méthode au choix, la puissance utile (puissance mécanique) **P2** au point de fonctionnement.

ANNEXE 1 – Synoptique de la filière de traitement



ANNEXE 2 – Caractéristiques de la filière de traitement

- Dégrieur (entrefer de 20 mm).
- Dessablage – dégraissage.
- Chenal d'aération de 9 500 m³ équipé de 8 agitateurs et 672 diffuseurs fines bulles (centrale d'air (4 surpresseurs) 4 950 Nm³.h⁻¹).
- Dégazage.
- Clarification : 2 clarificateurs (1 clarificateur : 3 890 m³, Ø 39,8 m, surface au miroir 1 134 m²).
- Traitement des boues par :
 - chaulage avant épaisseur (lait de chaux) ;
 - épaisseur hersé (Ø 12 m, 400 m³) ; (siccité des boues épaissies 3,5%, soit 35 g MS.L⁻¹) ;
 - centrifugeuse (production 10 tonnes MS.j⁻¹ ; siccité des boues déshydratées 20%, soit 200 g MS.L⁻¹) ;
 - chaulage avant stockage (chaux vive).

⇒ Les boues sont stabilisées par addition de chaux (**stabilisation chimique**) à 2 endroits sur la filière boues :

- avant épaisseur ;
- après déshydratation par centrifugation.

⇒ Les boues subissent une étape de **conditionnement chimique** par ajout de polymères juste avant la déshydratation par centrifugation.

Le conditionnement chimique permet d'éliminer l'eau libre et une partie de l'eau liée contenues dans la boue, par destruction de la stabilité colloïdale, afin d'en faciliter la déshydratation.

⇒ **La centrifugation** permet la séparation « eau / boue » dans un rotor cylindro-conique horizontal.

La boue à déshydrater, additionnée de polymères pour le conditionnement, est introduite dans la machine.

La séparation « eau / boue » est effectuée dans un rotor cylindro-conique horizontal, contenant une vis convoyeuse, qui tourne dans le même sens que le rotor mais à une vitesse légèrement supérieure (**figure 1 ci-dessous**). La différence de vitesse est appelée vitesse relative (VR).

Sous l'action de la force centrifuge, les solides se déposent en couche sur les parois (bol). La vitesse relative de la vis convoyeuse fait progresser les boues déshydratées (sédiment ou gâteau) vers la sortie de la machine, alors que le liquide extrait des boues (centrat ou filtrat) se collecte au centre de la machine pour être évacué.

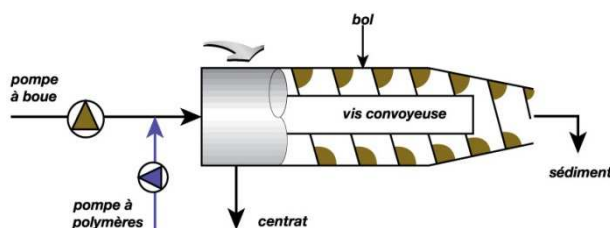


Figure 1 – Centrifugeuse

ANNEXE 3 – Données caractéristiques de la station étudiée

Capacité de traitement	60 000 EH
Débit nominal	12 500 m ³ .j ⁻¹
Débit de pointe	1 560 m ³ .h ⁻¹
Charge nominale DBO₅	3 275 kg.j ⁻¹
Charge nominale DCO	7 340 kg.j ⁻¹
Charge nominale MES	3 228 kg.j ⁻¹

ANNEXE 4 – Épuration biologique - situation normale

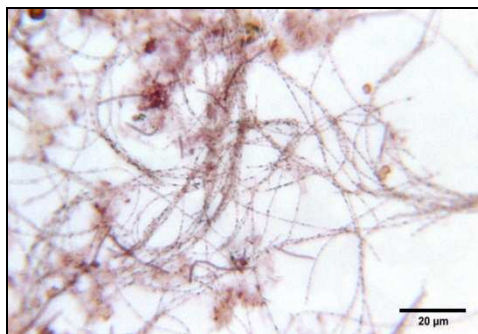
[MES] bassin d'aération	3,8 g.L ⁻¹
[MVS] bassin d'aération	2,9 g.L ⁻¹
V₃₀ Dilution : 1/4	160 mL.L ⁻¹

ANNEXE 5 – Épuration biologique - situation de foisonnement

Depuis l'apparition du phénomène de foisonnement, la station est en surcharge hydraulique et en sous-charge organique.

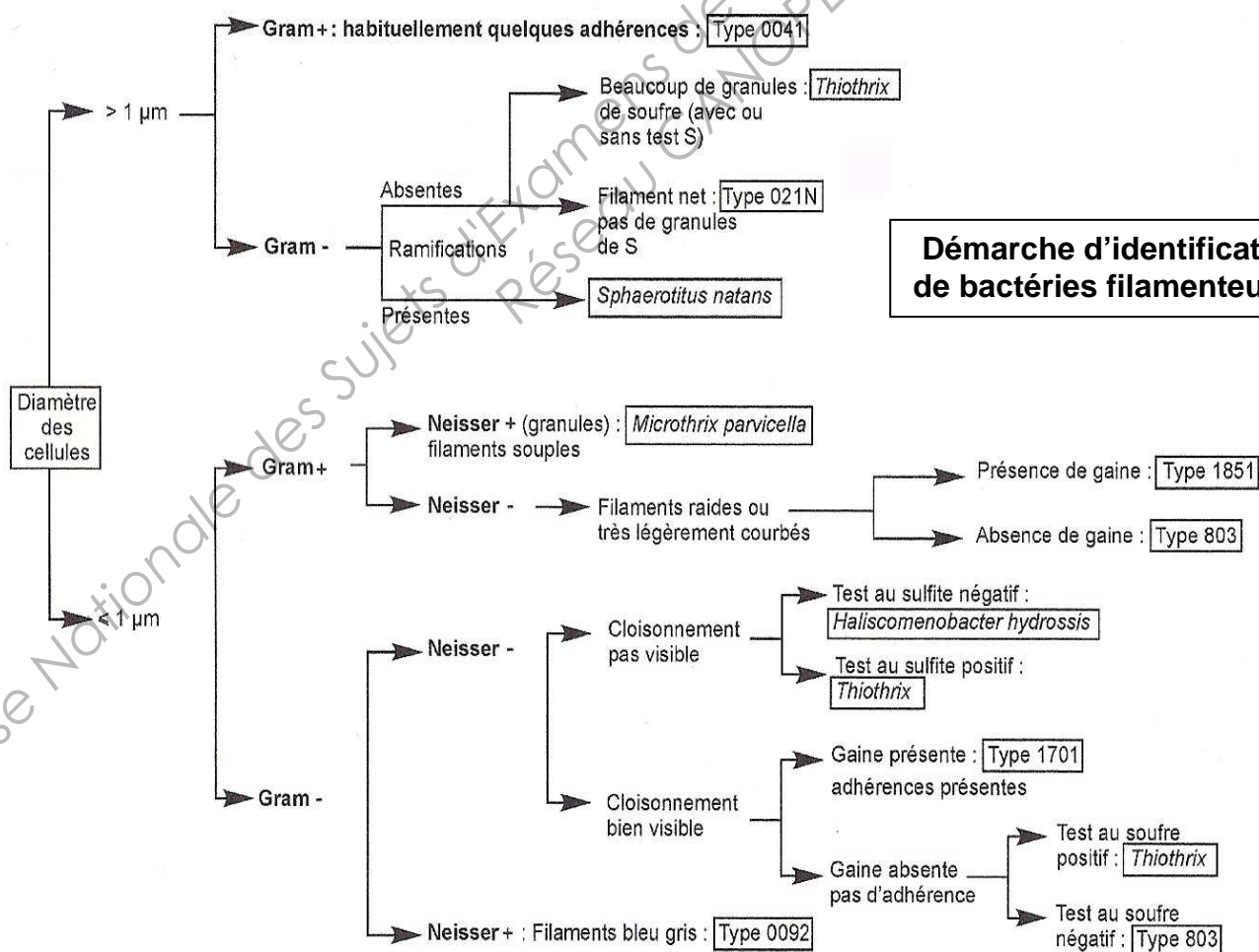
[DBO₅] entrée bassin d'aération	260 mg.L ⁻¹
[NGL] entrée bassin d'aération	8 mg.L ⁻¹
[P_T] entrée bassin d'aération	1,8 mg.L ⁻¹
[MES] bassin d'aération	4 g.L ⁻¹
[MVS] bassin d'aération	3 g.L ⁻¹
V₃₀ non dilué	980 mL.L ⁻¹
V₃₀ Dilution : 1/5	630 mL.L ⁻¹

ANNEXE 6 – Observation microscopique de la boue activée en situation de foisonnement



ANNEXE 7 – Caractéristiques de la bactérie filamenteuse mise en évidence

- Taille des filaments > 200 µm (« plat de spaghetti » : filaments souples, avec quelques boucles).
- Ø des cellules composant le filament : 0,6 à 0,8 µm.
- Coloration de Neisser : positive.
- Coloration de Gram : positive.



ANNEXE 8 – Causes probables et bactéries filamenteuses responsables du foisonnement

Type de station	Origine supposée du foisonnement	Facteur aggravant	Dominance du filament	Solution technique envisageable
<ul style="list-style-type: none"> Faible charge massique 	<ul style="list-style-type: none"> Carence nutritionnelle peu marquée Forte carence nutritionnelle (Industries) 	<ul style="list-style-type: none"> Déficit en oxygène Dilution des effluents Décanteur primaire 	<ul style="list-style-type: none"> Type 0041, 0092, 0581, 0675 <i>Microthrix parvicella</i> Type 0961, 021N 	<ul style="list-style-type: none"> Zone de contact Zone de contact + complémentarion en nutriments
<ul style="list-style-type: none"> Moyenne ou forte charge massique 	<ul style="list-style-type: none"> Déséquilibres nutritionnels Variations de charge 	<ul style="list-style-type: none"> Déficit en oxygène Substrat riche en hydrate de carbone 	<ul style="list-style-type: none"> <i>Sphaerotilus natans</i> Type 021N, 1701, 1863 	<ul style="list-style-type: none"> Complémentarion en nutriments Suroxygénation des boues Extension de la station Mise en place d'un premier étage à forte charge
<ul style="list-style-type: none"> Indifférenciée 	<ul style="list-style-type: none"> Composés soufrés réduits dans l'effluent 		<ul style="list-style-type: none"> Type 021N <i>Thiothrix</i>, <i>Beggiatoa</i> 	<ul style="list-style-type: none"> Oxydation des composés soufrés en amont du traitement Suraération des boues
<ul style="list-style-type: none"> Industrielle (agro-alimentaire) 	<ul style="list-style-type: none"> Substrat riche en hydrate de carbone Carence nutritionnelle et déséquilibre 	<ul style="list-style-type: none"> Surcharge ou sous-aération 	<ul style="list-style-type: none"> <i>Sphaerotilus natans</i> Type 021N, 1701, 1863 Type 0041, 0961, 021N 	<ul style="list-style-type: none"> Lit bactérien en tête Suraération Complémentarion en nutriments Zones de contact

ANNEXE 9 – Lutte contre le phénomène de foisonnement par « chloration »

La chloration est effectuée par piquage sur la canalisation de recirculation des boues.

Masse totale de MS à chlorer pour une période de 24 heures : 38 800 kg.

Chloration à la Javel (48° Chl.) sachant que 1° Chl. = 3,17 g Cl₂.L⁻¹.

Q_{Chloration} : 55 L.h⁻¹.

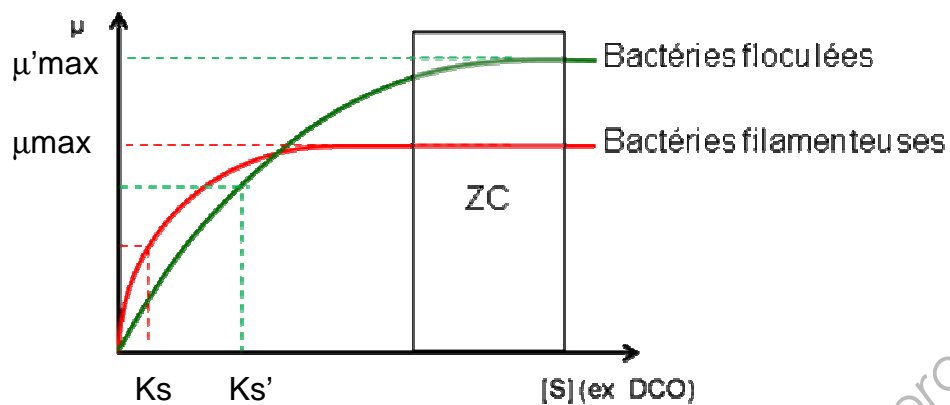
Q_{Récirculation} : 900 m³.h⁻¹.

[MS]_{Récirculées} : 5,4 g.L⁻¹.

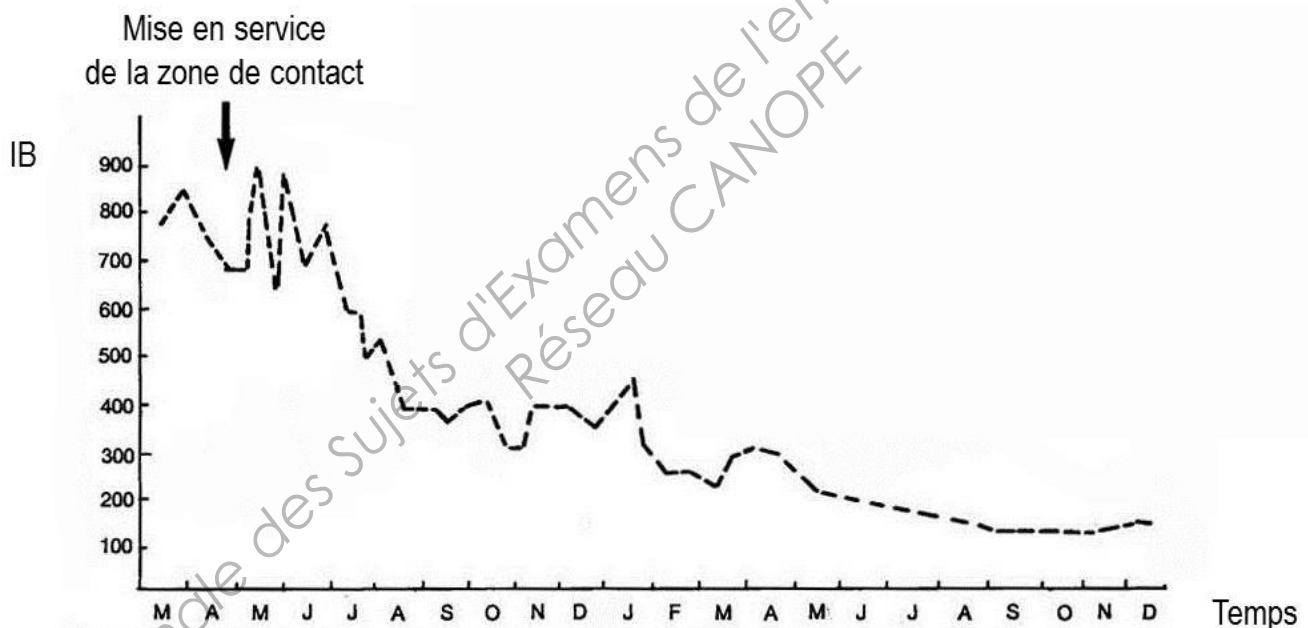
Valeurs à respecter pour que le traitement soit optimal :

- concentration en chlore au point d'injection < 35 mg Cl₂.L⁻¹ ;
- taux de traitement global : 2 à 6 g Cl₂.kg MS⁻¹.j⁻¹ ;
- fréquence de passage de la boue au point d'injection : 2,5 à 3 fois.j⁻¹ ;
- durée de traitement : une dizaine de jours.

ANNEXE 10 – Évolution du taux de croissance bactérien en fonction de la concentration en substrat



ANNEXE 11 – Solution de lutte contre le phénomène de foisonnement par « Zone de contact »



ANNEXE 12 – Filière de traitement des boues



10 tonnes de MS sont produites par jour en sortie de centrifugation.

ANNEXE 13

Variateurs UL Type 1/IP 20

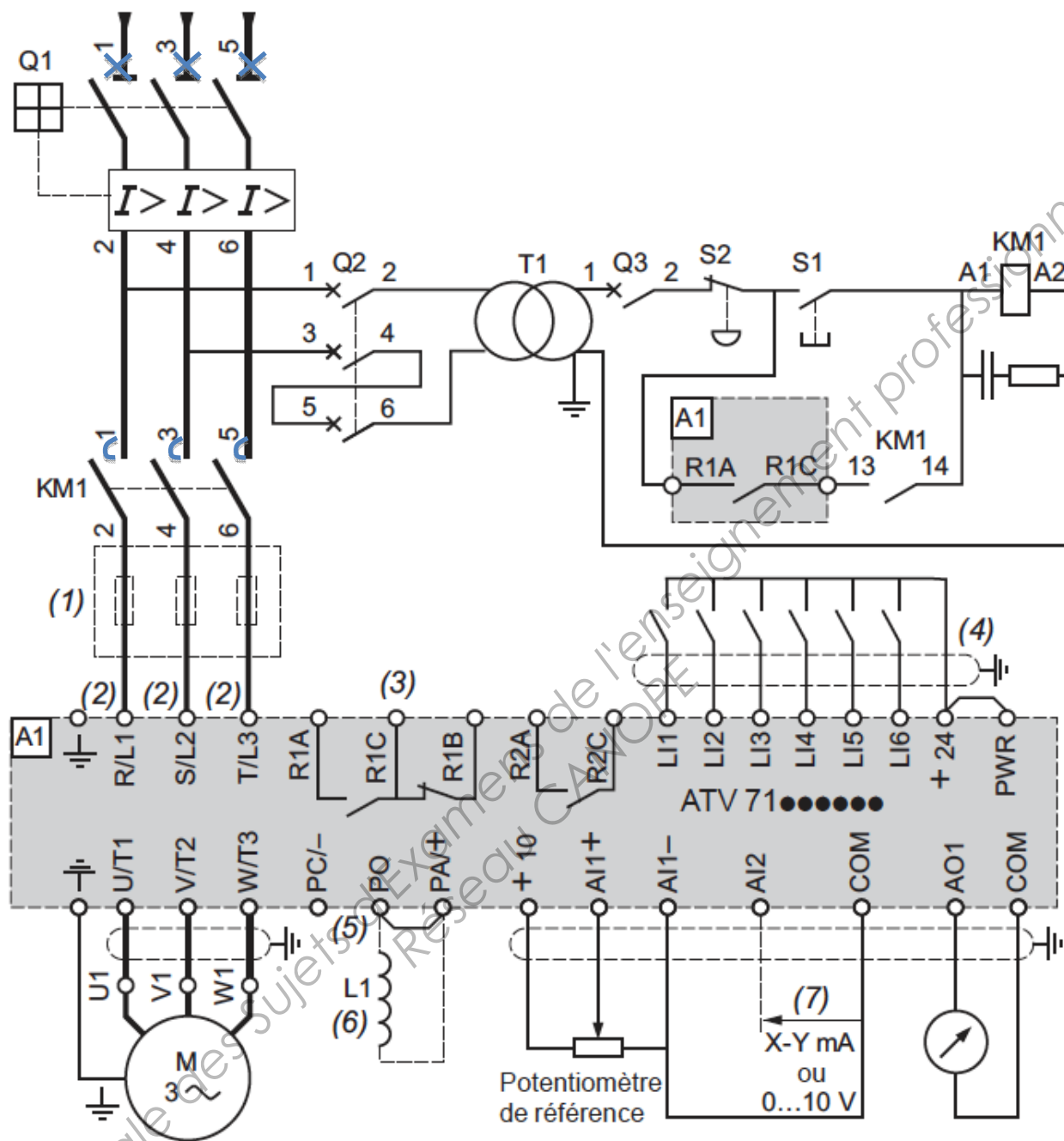
Moteur		Réseau				Altivar 71				Référence (3)	Masse
Puissance indiquée sur plaque (1)		Courant de ligne (2)		Puissance apparente	Icc ligne présumé maxi	Courant maximal permanent (1)		Courant transitoire maxi pendant			
kW	HP	380 V	480 V	380 V		380 V	460 V	60 s	2 s		
		A	A	kVA		kA	A	A	A		A
Tension d'alimentation triphasée : 380...480 V 50/60 Hz											
0,75	1	3,7	3	2,4	5	2,3	2.1	3,5	3,8	ATV 71H075N4 (4) (5)	3,000
1,5	2	5,8	5,3	3,8	5	4,1	3.4	6,2	6,8	ATV 71HU15N4 (4) (5)	3,000
2,2	3	8,2	7,1	5,4	5	5,8	4.8	8,7	9,6	ATV 71HU22N4 (4) (5)	3,000
3	—	10,7	9	7	5	7,8	6.2	11,7	12,9	ATV 71HU30N4 (4) (5)	4,000
4	5	14,1	11,5	9,3	5	10,5	7.6	15,8	17,3	ATV 71HU40N4 (4) (5)	4,000
5,5	7,5	20,3	17	13,4	22	14,3	11	21,5	23,6	ATV 71HU55N4 (4) (5)	5,500
7,5	10	27	22,2	17,8	22	17,6	14	26,4	29	ATV 71HU75N4 (4) (5)	5,500
11	15	36,6	30	24,1	22	27,7	21	41,6	45,7	ATV 71HD11N4 (4) (5)	7,000
15	20	48	39	31,6	22	33	27	49,5	54,5	ATV 71HD15N4 (4) (5)	22,000
18,5	25	45,5	37,5	29,9	22	41	34	61,5	67,7	ATV 71HD18N4 (4) (5)	22,000
22	30	50	42	32,9	22	48	40	72	79,2	ATV 71HD22N4 (4) (5)	30,000
30	40	66	56	43,4	22	66	52	99	109	ATV 71HD30N4 (4) (5)	37,000
37	50	84	69	55,3	22	79	65	118,5	130	ATV 71HD37N4 (4) (5)	37,000
45	60	104	85	68,5	22	94	77	141	155	ATV 71HD45N4 (4) (5)	44,000
55	75	120	101	79	22	116	96	174	191	ATV 71HD55N4 (4) (5)	44,000
75	100	167	137	109,9	22	160	124	240	264	ATV 71HD75N4 (4) (5)	44,000
90	125	166	134	109,3	35	179	179	269	295	ATV 71HD90N4 (6) (7)	60,000
110	150	202	163	133	35	215	215	323	355	ATV 71HC11N4 (6) (7)	74,000
132	200	239	192	157,3	35	259	259	388	427	ATV 71HC13N4 (6) (7)	80,000
160	250	289	233	190,2	50	314	314	471	518	ATV 71HC16N4 (6) (7)	110,000
200	300	357	286	235	50	387	387	580	638	ATV 71HC20N4 (6) (7)	140,000
220	350	396	320	260,6	50	427	427	640	704	ATV 71HC25N4 (6) (7)	140,000
250	400	444	357	292,2	50	481	481	721	793		
280	450	494	396	325,1	50	550	550	825	907	ATV 71HC28N4 (6) (7)	140,000
315	500	555	444	365,3	50	616	616	924	1016	ATV 71HC31N4 (6) (7)	215,000
355	—	637	512	419,3	50	671	671	1006	1107	ATV 71HC40N4 (6) (7)	225,000
400	600	709	568	466,6	50	759	759	1138	1252		
500	700	876	699	576,6	50	941	941	1411	1552	ATV 71HC50N4 (6) (7)	300,000

ANNEXE 14

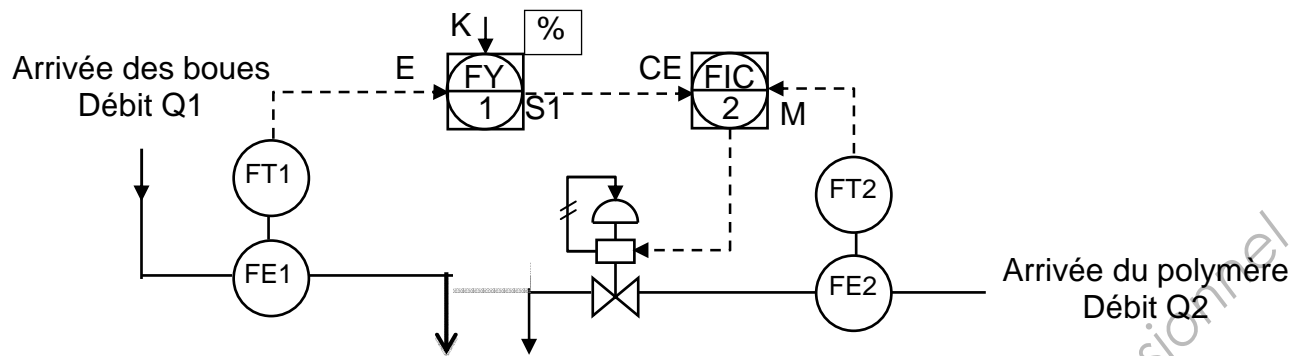
Départs-moteurs pour variateurs UL Type 1/IP 20

Moteur		Variateur	Disjoncteur	Contacteur de ligne	
Puissance (1)		Référence	Référence (2)	Calibre	Irm
kW	HP			A	A
Tension d'alimentation triphasée 380...415 V 50/60 Hz. Coordination type 2					
0,75	1	ATV 71H075N4	GV2 L08	4	—
1,5	2	ATV 71HU15N4	GV2 L10	6,3	—
2,2	3	ATV 71HU22N4	GV2 L14	10	—
3	—	ATV 71HU30N4	GV2 L16	14	—
4	5	ATV 71HU40N4	GV2 L16	14	—
5,5	7,5	ATV 71HU55N4	GV2 L22	25	—
7,5	10	ATV 71HU75N4	GV3 L32	32	—
11	15	ATV 71HD11N4	GV3 L40	40	—
15	20	ATV 71HD15N4	GV3 L50	50	—
18,5	25	ATV 71HD18N4	GV3 L50	50	—
22	30	ATV 71HD22N4	GV3 L65	65	—
30	40	ATV 71HD30N4	NS80HMA80	80	480
37	50	ATV 71HD37N4	NS100●MA100	100	800
45	60	ATV 71HD45N4	NS160●MA150	150	1350
55	75	ATV 71HD55N4	NS160●MA150	150	1350
75	100	ATV 71HD75N4	NS250●MA220	220	1980
90	125	ATV 71HD90N4	NS250●MA220	220	1980
110	150	ATV 71HC11N4	NS250●MA220	220	1980
132	200	ATV 71HC13N4	NS400●MA320	320	1920
160	250	ATV 71HC16N4	NS400●MA320	320	1920
200	300	ATV 71HC20N4	NS400●MA320	320	1920
220	350	ATV 71HC25N4	NS630●MAE500	500	3000
250	400	ATV 71HC25N4	NS630●MAE500	500	3000
280	450	ATV 71HC28N4	NS630●MAE500	500	3000
315	500	ATV 71HC31N4	NS630●MAE500	500	3000

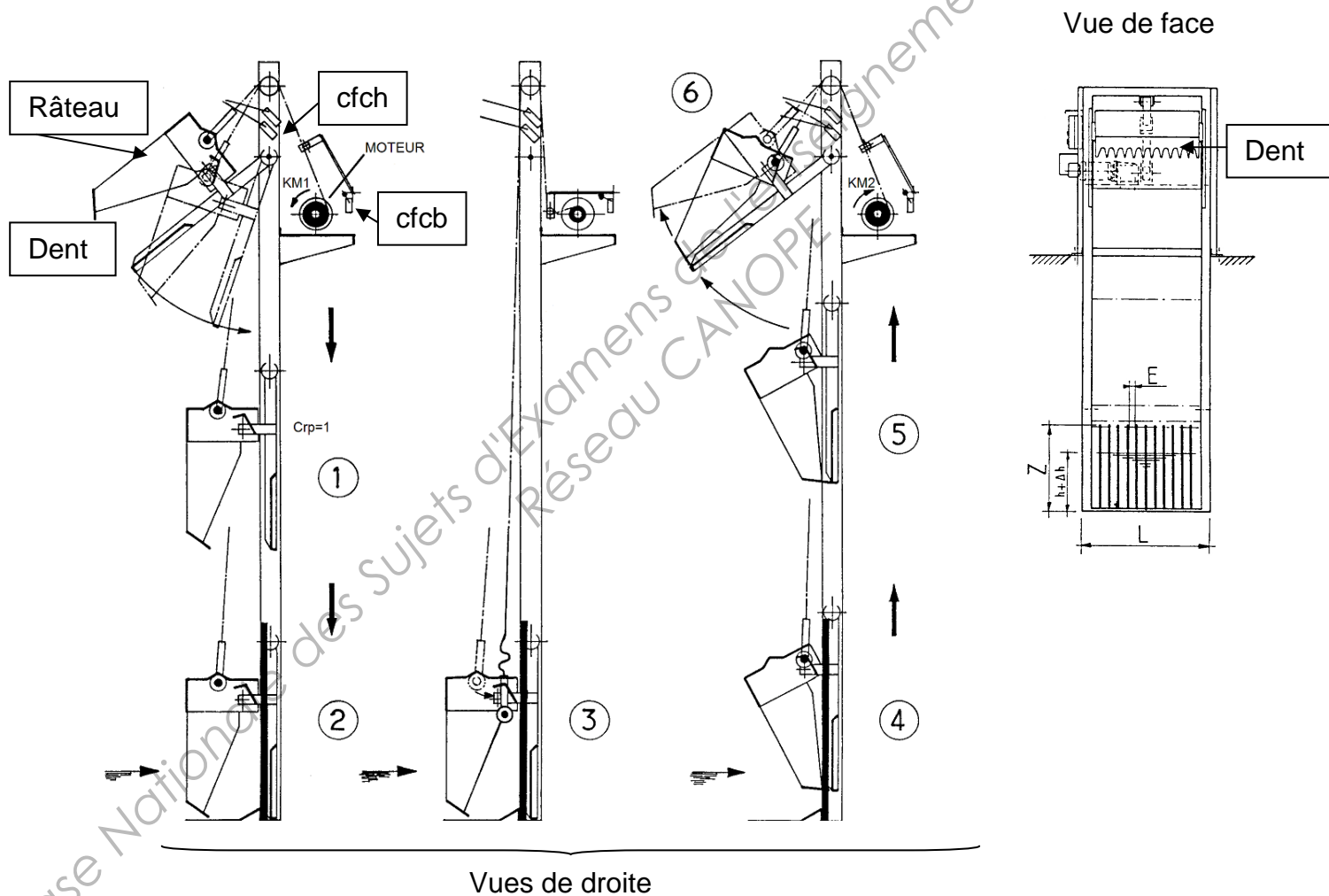
ANNEXE 15 – Exemple de schéma de câblage donné par le constructeur



ANNEXE 16 – Schéma TI de la régulation



ANNEXE 17 – Schéma de principe d'un des dégrilleurs de la station



Codes des entrées et sorties utilisées :

Entrées

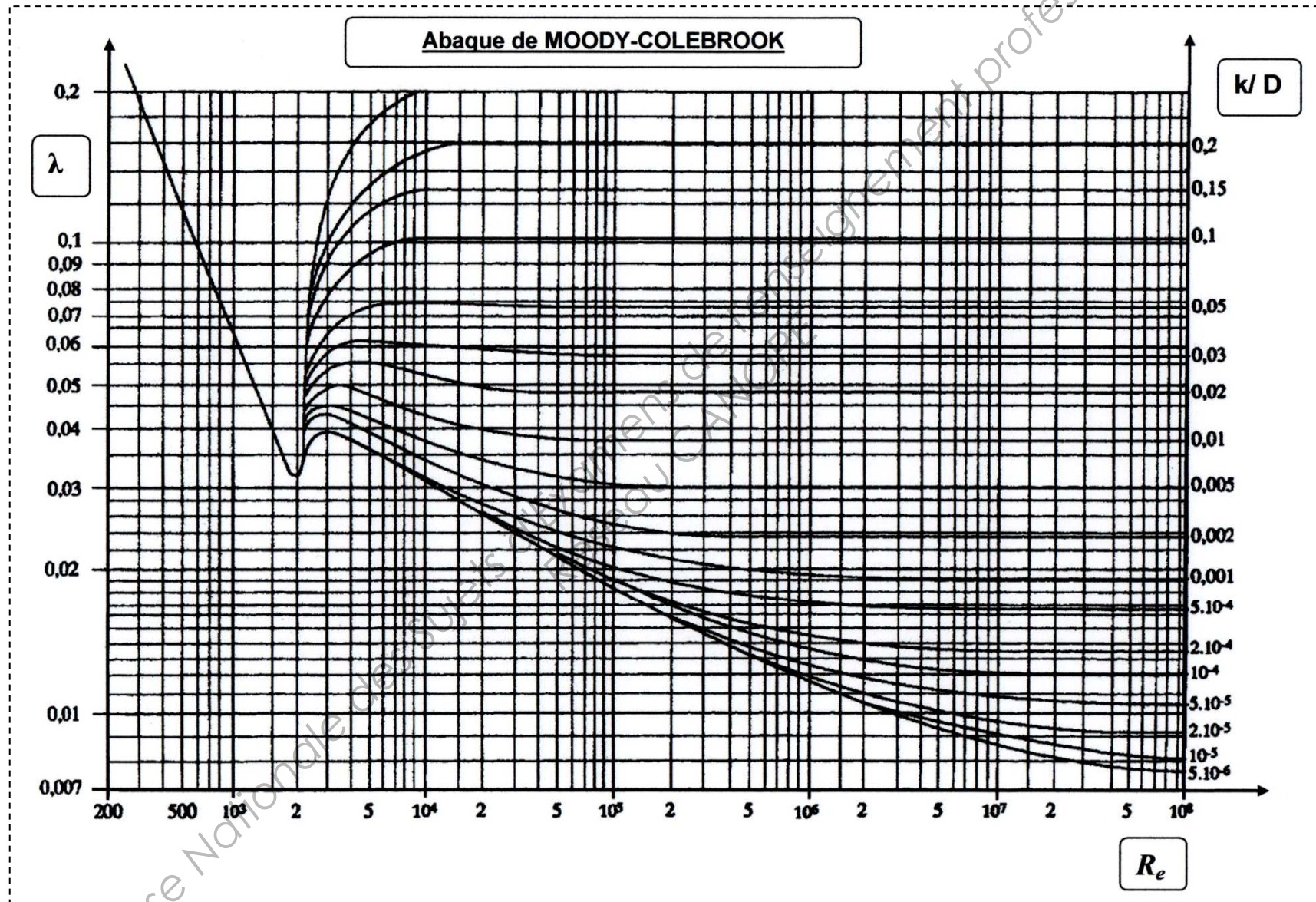
Cfcb
Cfch
Crp
Pc

AUTOMATE

Sorties

KM1
KM2
VOYANT

DOCUMENT-RÉPONSE HYDRAULIQUE N°1
(À découper et coller sur la copie)



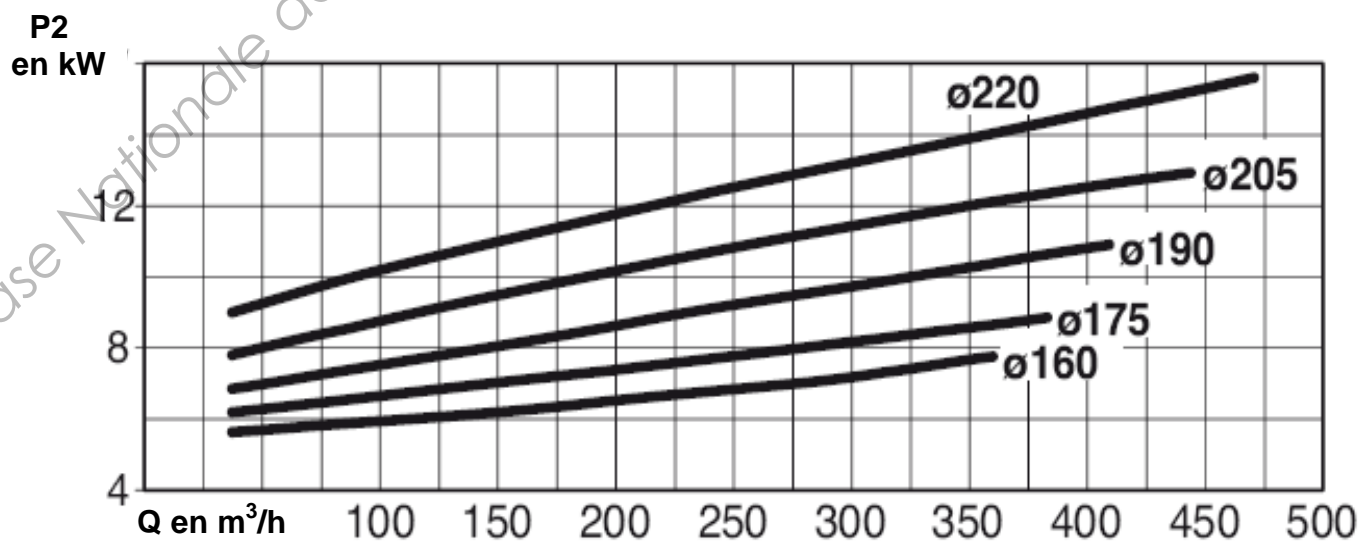
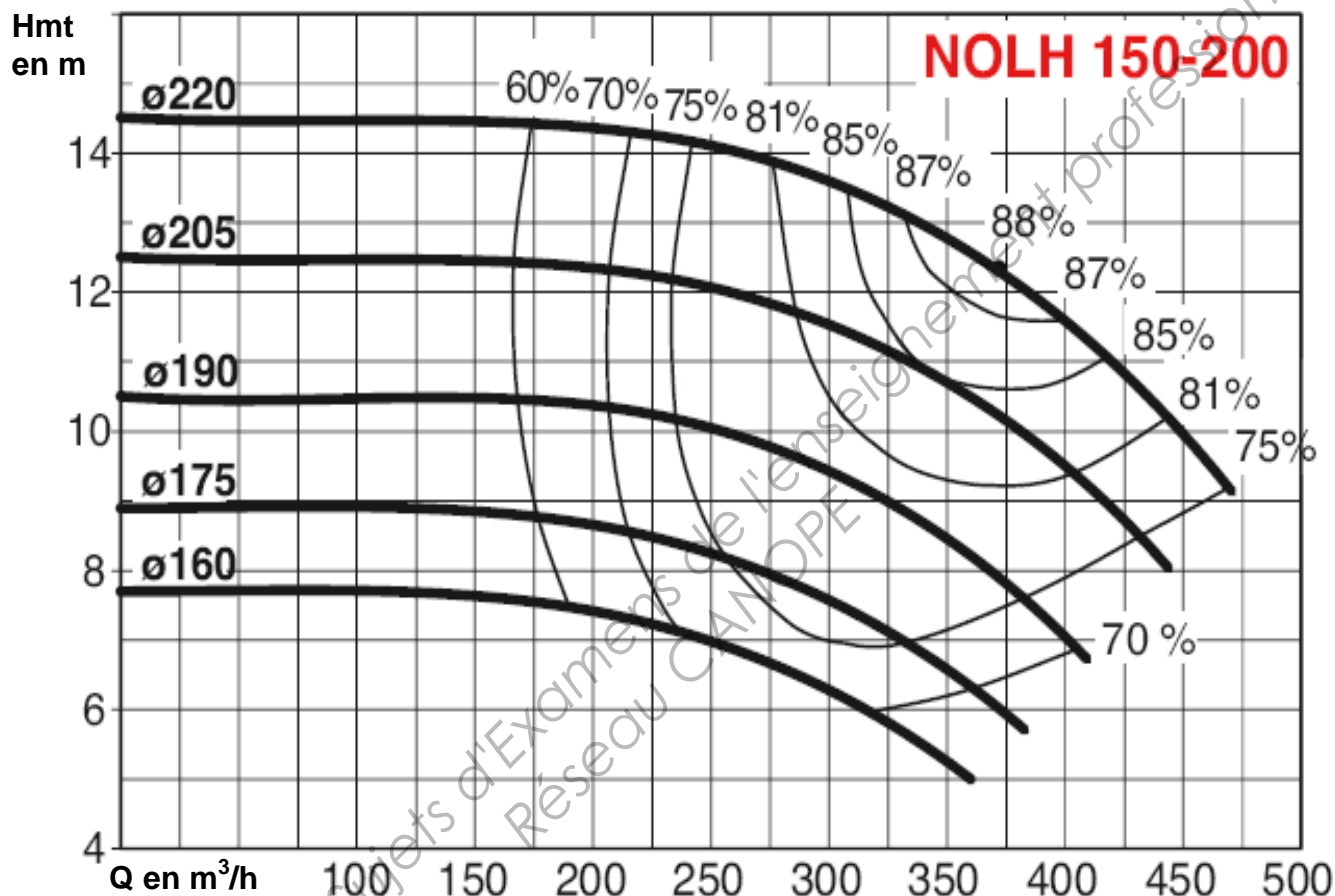
DOCUMENT-RÉPONSE HYDRAULIQUE N°2

(À découper et coller sur la copie)

Document SALMSON constructeur

Courbes :

- $H_{mt} = f(Q)$ et rendement pompe $\eta_P = f(Q)$;
- $P_2 = P_{\text{Utile moteur}} = f(Q)$; pour 5 modèles à 1450 tr.min^{-1} .



Copyright © 2026 FormaV. Tous droits réservés.

Ce document a été élaboré par FormaV® avec le plus grand soin afin d'accompagner chaque apprenant vers la réussite de ses examens. Son contenu (textes, graphiques, méthodologies, tableaux, exercices, concepts, mises en forme) constitue une œuvre protégée par le droit d'auteur.

Toute copie, partage, reproduction, diffusion ou mise à disposition, même partielle, gratuite ou payante, est strictement interdite sans accord préalable et écrit de FormaV®, conformément aux articles L.111-1 et suivants du Code de la propriété intellectuelle. Dans une logique anti-plagiat, FormaV® se réserve le droit de vérifier toute utilisation illicite, y compris sur les plateformes en ligne ou sites tiers.

En utilisant ce document, vous vous engagez à respecter ces règles et à préserver l'intégrité du travail fourni. La consultation de ce document est strictement personnelle.

Merci de respecter le travail accompli afin de permettre la création continue de ressources pédagogiques fiables et accessibles.

Copyright © 2026 FormaV. Tous droits réservés.

Ce document a été élaboré par FormaV® avec le plus grand soin afin d'accompagner chaque apprenant vers la réussite de ses examens. Son contenu (textes, graphiques, méthodologies, tableaux, exercices, concepts, mises en forme) constitue une œuvre protégée par le droit d'auteur.

Toute copie, partage, reproduction, diffusion ou mise à disposition, même partielle, gratuite ou payante, est strictement interdite sans accord préalable et écrit de FormaV®, conformément aux articles L.111-1 et suivants du Code de la propriété intellectuelle. Dans une logique anti-plagiat, FormaV® se réserve le droit de vérifier toute utilisation illicite, y compris sur les plateformes en ligne ou sites tiers.

En utilisant ce document, vous vous engagez à respecter ces règles et à préserver l'intégrité du travail fourni. La consultation de ce document est strictement personnelle.

Merci de respecter le travail accompli afin de permettre la création continue de ressources pédagogiques fiables et accessibles.